

نام و نام خانوادگی:

به نام خدا
آموزش و پرورش شهرستان

تاریخ آزمون: ۱۷۱

نام پدر:

دبستان

مدت زمان: ۴۵ دقیقه

ماه مهر

نام معلم:

امتحان:

پایه : ششم

تعداد صفحات: ۲ صفحه

صفحه ی ۱

الف گزینه ی صحیح را انتخاب کنید

۱- عدد ۱۵ مضرب کدام یک از اعداد زیر است؟

الف) ۲ ب) ۳ ج) ۵ د) گزینه ی ب و ج

۲- حاصل جمع دو عدد فرد، عددی است

الف) زوج ب) فرد ج) زوج یا فرد د) نه زوج نه فرد

۳- در عدد ۶۳۸۳۱۵۰۸ رقم دارای ارزش مکانی دهگان میلیون کدام است؟

الف) ۸ ب) ۱ ج) ۳ د) ۶

ب) در جای خالی کلمات مناسب بنویسید

۴- بر روی محور اعداد صحیح، هر چه به سمت پیش برویم عددها بزرگ تر می شوند .

۵- حاصل جمع دو عدد که یکی از آنها زوج و دیگری فرد است، است .

۶- به مجموعه ی اعداد زوج و اعداد فرد، اعداد می گویند .

به سؤالات زیر پاسخ صحیح دهید.

۷- دور اعدادی که هم بر ۲ و هم بر ۵ بخش پذیرند خط بکشید.

۳۵۴ ۲۵۵۵ ۱۷۲۰۰ ۹۶ ۸۰

۸- الگویی رسم کنید که رابطه ی بین تعداد شکل ها و شماره ی شکل های آن به صورت زیر باشد.

۲- (۳ × شماره ی شکل) - تعداد شکل ها

۹- ابتدا هر یک از اعداد زیر را روی محور به صورت تقریبی نشان دهید. سپس اعدادی را که نقطه های مشخص

شده نشان می دهد بنویسید . -۶۵ ، +۸۰ ، -۱۴۰ ، +۲۷ ، -۱۰۰



پاسخنامه رایگان این نمونه سوال

کلیک کنید

www.riazisheshom.ir/post/65

نام و نام خانوادگی:

به نام خدا
آموزش و پرورش شهرستان

تاریخ آزمون: ۱۷/۱

نام پدر:

دبستان

مدت زمان: ۴۵ دقیقه

ماه مهر

نام معلم:


امتحان:

پایه: ششم


صفحه ی ۲

تعداد صفحات: ۲ صفحه

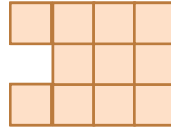
۱۰- با توجه به الگوی زیر، شکل بعدی را رسم و رابطه ی بین تعداد مکعب ها و شماره ی شکل ها را بنویسید



شکل (۱)



شکل (۲)



شکل (۳)

.....

الف - رابطه ی بین تعداد مربع ها و شماره ی شکل های بالا را بنویسید

۱۱- با کارت های



به حروف

به رقم

.....

شش

الف - کوچک ترین عدد ده رقمی

.....

ب - کوچک ترین عدد ۶ رقمی و فرد با رقم دهگان هزار ۳ و رقم دهگان ۱ را بنویسید

۱۲- اعداد زیر را از کوچک به بزرگ مرتب کنید .
-۵۵ , +۸۷ , -۱۴۰ , +۲۰ , -۱۰۰

.....

۱۳- مقایسه کنید و علامت مناسب (< = >) قرار دهید.

۰ -۵

۹۸۸۲۳۹۹ ۱۵۶۶۷۳۹۹

+۴ -۸

-۳۲ -۱۸

۵۰۰۰۰۷ ۷۰۰۰۵

+۱۲۰ +۴۵

۱۴- عدد چهل و نه میلیون و هشتصد و هفت را به رقم بنویسید.

.....

الف - به صورت گسترده بنویسید.

ب - اگر آن را در ۱۰۰ ضرب کنید، ارزش مکانی رقم ۸ چه تغییری می کند؟

۱۵- برای عبارت ۶۷ ۳۴۰۰ - ۹۲ ۱۰۰۰ مسئله ای طرح و آن را حل کنید.

پاسخنامه رایگان این نمونه سوال

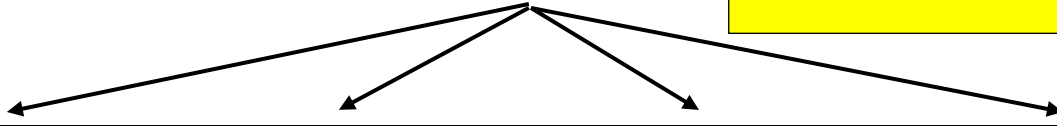
کلیک کنید

www.riazisheshom.ir/post/65

سایت مرجع (کلیک کنید)

www.riazi1000.ir

کلیک کنید



ریاضی دهم

www.riazidahom.ir

ریاضی هشتم و نهم

www.riazinohom.ir

ریاضی هفتم

www.tadris7.ir

ریاضی ششم

www.riazisheshom.ir

تدریس خصوصی (تهران)

همه ی دروس - همه ی مناطق (از دبستان تا دانشگاه)

مرکز و شرق - شمال - غرب

۴۴۴۶۹۹۲۱

۲۲۸۶۹۰۳۸

۷۶۸۷۵۸۴۵

مشاورین ثبت نام:

آقای احمدی: ۰۹۱۲-۹۳۱-۹۸۸۱

خانم هاشمی: ۰۹۱۰-۶۰۱-۱۴۰۰

اعزام مشاور جهت مشاوره و ثبت نام در منزل محل کار و یا در محل موسسه
دریافت شهریه به صورت اقساطی طی دوره
پیگیری مستمر و برگزاری آزمون های پیشرفت تحصیلی طی دوره آموزشی



برای عضویت در کانال تلگرام @riazi1000 کلیک کنید: